

הוראות ודוגמאות לבחינה

הבחינה מורכבת מכמה תתי-מבחנים, שפתרונם אינו כרוך בידיעות מקצועיות בכל תחום שהוא. ניתן לענות על שאלות המבחן בעזרת ההיגיון, ידיעות כלליות ושיקול הדעת. לכל מבחן ניתן זמן מוקצב. לפני כל מבחן ייאמר לכם כמה זמן עומד לרשותכם.

כשיעבור הזמן המוקצב תינתן הוראה להפסיק לענות על השאלות ולעבור למבחן הבא.

לא תינתן אפשרות לחזור למבחן הקודם!

יש מבחנים הבנויים באופן שאי-אפשר להשיב על כל השאלות בזמן הקצוב. לכן, אם לא סיימתם לענות על כל שאלות המבחן אין זאת אומרת שלא הצלחתם בו.

בדרך-כלל רצוי לענות על שאלות המבחן על-פי הסדר שבו הן מופיעות, אך אם נתקלתם בשאלה קשה – ניתן לדלג עליה, ואם תספיקו ניתן לחזור אליה לאחר שתגמרו לענות על שאר השאלות של אותו המבחן.

לכל שאלה במבחן מוצעות מספר תשובות אפשריות. עליכם לבחור מתוכן בתשובה הנכונה ביותר. את התשובה יש לסמן בדף התשובות במקום המיועד לכך.

סימון התשובה ייעשה ע"י הקפת עיגול סביב לספרה המסמנת את התשובה הנכונה.

לדוגמא: אם בשאלה מס' 1 התשובה המתאימה היא 3, יש להקיף בעיגול את הספרה 3 לפי הדוגמא הבאה:

שאלה	תשובות
1	1 2 3 4 5 6

- לכל שאלה יש לבחור בתשובה הנכונה ביותר ולסמן תשובה אחת בלבד. לא יתכן מצב שבו ישנן שתי תשובות נכונות. אם תסומנה שתי תשובות או יותר לשאלה אחת – לא תובא בחשבון אף אחת מהן.
 - התשובות, כפי שתסומנה בדף התשובות, הן שתקבענה את מידת הצלחתכם בבחינה. הכתוב בדף הטיוטא לא יובא בחשבון.
 - בכל רגע נתון יינתן רק דף טיוטא אחד. דף טיוטא שהתמלא משני צדדיו יוחזר לבוחן/ת, ואז יינתן דף טיוטא חדש.
 - הבוחן/ת אחראית למתן תנאים נוחים והסברים מפורטים.
 - יש להישמע להוראות הבוחן/ת ולא להפריע/ה בתפקידו/ה.
 - אם לא ברור דבר מה יש לשאול לפני שניתנה ההוראה להתחיל במבחן. בשעת המבחן לא יינתנו הסברים נוספים.
 - בכל מבחן ייספרו התשובות הנכונות בלבד, תשובות שגויות לא יילקחו בחשבון. כלומר, ניתן לנחש תשובה שלא בטוחים בה, שכן לא יורדו נקודות על תשובות שגויות (אלא אם כן ייאמר אחרת בהסברים לאותו המבחן).
- חלקה הראשון של הבחינה מורכב מחוברת המכילה חמישה מבחנים: שלושה הבודקים כושר מילולי ושניים הבודקים כושר מספרי.

חלקה השני של הבחינה מורכב ממבחן חשיבה צורנית (מטריצות), ומבחני זריזות ודייקנות (כשרים פקידותיים).

להלן יינתנו מספר שאלות לדוגמא. שאלות אלו אינן מייצגות את כל סוגי השאלות המופיעות בבחינה, אלא מובאות כדי להדגים את מבנה המבחנים ואופיים. במבחן, כמובן, מופיעות גם שאלות קשות יותר.

מתחת לכל דוגמא תופיע התשובה הנכונה.

דוגמאות למבחן עברית

1. איזו מילה מן המילים הבאות פירושה **כרם**?

1. חלקת שדה
2. מושב
3. פרי
4. מטע-גפנים
5. בוסתן

התשובה הנכונה היא תשובה מס' 4.

2. ההיפך מן המילה **ארוך** הוא :

1. קטן
2. קצר
3. דק
4. עבה
5. מעט

התשובה הנכונה היא תשובה מס' 2.

3. לפניך משפט שבו חסרה מילה ובמקומה מופיע קו. מתחת למשפט זה ישנן חמש מילים שאחת

מהן היא החסרה במשפט. מהי מילה זו?

סירה _____ ביס.

1. הולכת
2. שטה
3. שוחה
4. נוסעת
5. נוהגת

התשובה הנכונה היא תשובה מס' 2.

4. איזו מילה מן המילים המסומנות כתובה בכתוב לא נכון?

1 אילו חשבתי על כך מרוש אין ספק שהייתי נוהג אחרת.
2 3 4

המילה "מרוש" אינה כתובה נכון. היא צריכה להיות כתובה כך: מראש.
התשובה הנכונה היא תשובה מס' 3.

דוגמא למבחן צמדי מילים (אנלוגיות מילוליות)

בשאלה שלפניך רשומות שלוש מילים וחסרה מילה רביעית. בין שתיים מהמילים יש קשר מסויים. אותו קשר צריך להתקיים גם בין המילה השלישית למילה הרביעית החסרה. מהי המילה החסרה?

1. גן-ילדים מתייחס אל גננת כמו בית-ספר אל _____.

1. ילדים
2. מורה
3. כיתה
4. הורים
5. חינוך

התשובה הנכונה היא תשובה מס' 2.

דוגמאות למבחן הוראות

מבחן זה מכיל שאלות הבודקות את היכולת להבין ולבצע הוראות בצורה עצמאית ומדוייקת. חשוב מאד להתרכז בשאלה ולבצע בדיוק מה שנאמר בה.
1. לפניך שורת אותיות. כמה פעמים מופיעה בשורה זו האות "ט" כשלפניה האות "נ"?

א ב ט מ צ נ ט ד ה ו י ט ל ס ע נ ט ר ב ט

1. 1
2. 2
3. 3
4. 4

5. אף אחת מהתשובות הנתונות אינה נכונה.

התשובה הנכונה מסומנת בספרה 2.

2. לפניכם טבלת אותיות ומספרים. מהו המספר המתקבל כאשר מחברים את המספרים המופיעים מעל האותיות הסופיות בטבלא שלפניכם?

3	4	5	2	7
ק	ץ	ש	א	ף

7 .1

9 .2

11 .3

10 .4

14 .5

התשובה הנכונה מסומנת בספרה 3.

דוגמאות למבחן תרגילי חישוב

יש לפתור כל תרגיל. אין להשתמש במחשבי כיס או באמצעי עזר אחרים. ניתן להיעזר בדף טיוטא.

55+16= .1

61 .1

66 .2

71 .3

76 .4

5. אף אחת התשובות הנתונות אינה נכונה.

התשובה הנכונה מסומנת בספרה 3.

17X4= .2

124 .1

58 .2

72 .3

88 .4

5. אף אחת התשובות הנתונות אינה נכונה.

התשובה הנכונה מסומנת בספרה 5.

דוגמאות למבחן שאלות חשבון

יש לפתור כל שאלה. אין להשתמש במחשבי כיס או באמצעי עזר אחרים. ניתן להיעזר בדף טיוטא.

1. במפעל מסויים עובדים 50 פועלים. היום לא הגיעו לעבודה 3 פועלים שחלו, 4 פועלים שנמצאים בחופשה ואחד שמשרת במילואים. כמה פועלים באו היום לעבודה במפעל?

1. 32

2. 58

3. 8

4. 42

5. אף אחת התשובות הנתונות אינה נכונה.

התשובה הנכונה מסומנת בספרה 4.

2. מכונית נוסעת במהירות של 60 קמ"ש. בכמה זמן תעבור מרחק של 90 ק"מ?

1. $1 \frac{1}{4}$ שעות

2. $1 \frac{1}{3}$ שעות

3. $1 \frac{3}{4}$ שעות

4. 2 שעות

5. אף אחת התשובות הנתונות אינה נכונה.

התשובה הנכונה מסומנת בספרה 5.

דוגמא למבחן טורים

לפניכם שורה של מספרים המסודרים ע"פ שיטה. עליכם לגלות את השיטה ולמצוא את המספר המתאים ביותר במקום סימן השאלה.

1. 2 4 3 5 4 6 ?

1. 9

2. 8

3. 7

4. 6

5. 5

התשובה הנכונה מסומנת בספרה 5.

דוגמאות למבחנים הבודקים כשרים פקידותיים:

דוגמאות למבחן ביקורת מילולית ומספרית

במבחן זה מודפסים שני טורים של שמות, של כתובות או של מספרים. מימין לטורים אלו נמצא טור של משבצות המיועדות לסימון התשובות.

- אם שני השמות או המספרים באותה שורה זהים בכל – יש לסמן "0" במשבצת מימין (בטור המשבצות).
- אם שני השמות או המספרים באותה שורה אינם זהים בדיוק (נבדלים זה מזה באות, בספרה או בסימן) יש לסמן "-" במשבצת מימין (בטור המשבצות).

38901	38901	0
41573	41575	-
מאירי בנימין	מאיר בנימין	-
מלון המלך דוד	מלון המלך דוד	0

דוגמאות למבחן זריזות ודייקנות

בכל שאלה במבחן זה מופיעות חמש קבוצות (צירופים) של אותיות או מספרים. אחת הקבוצות מודגשת בקו. בדף התשובות מופיעות אותן הקבוצות, אך בסדר שונה. יש להתבונן בקבוצה המודגשת בקו (בשאלה), ולמצוא אותה קבוצה בין הקבוצות הנתונות בדף התשובות ולסמן אותה בעיגול.

שאלות (דף המבחן)

1. AB AC AD AE AF
2. AA AB bA BA BB

דף תשובות

1. AC AE AF AB AD
2. BA BB AB bA AA

דוגמאות למבחן סידור שמות ומספרים
במבחן זה יש ל"שבץ" את השם או המספר הרשום באותיות או ספרות גדולות באחד "מהמקומות
הריקים" ברשימה המסומנים בקוים.

- את השמות משבצים לפי מקומם בסדר הא"ב.
- את המספרים משבצים לפי גודלם.

2. דוגמא מתוך מבחן סידור מספרים :

476821021

1. _____
287102364
2. _____
382573201
3. _____
590367832
4. _____
683452034
5. _____

התשובה הנכונה מסומנת בספרה 3.

1. דוגמא מתוך מבחן סידור שמות :

גורלי שמשון

1. _____
אורבך רחל
2. _____
הלוי לאה
3. _____
מזרחי שרה
4. _____
צפורי שמואל
5. _____

התשובה הנכונה מסומנת בספרה 2.

הסבר ודוגמאות למבחן חשיבה צורנית

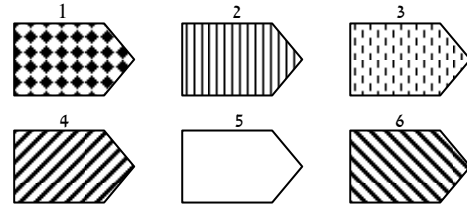
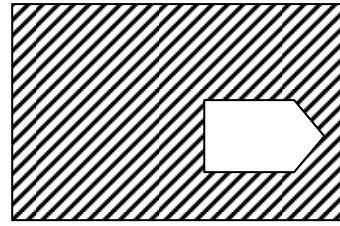
לפניכם תבנית שחסר בה חלק. החלק החסר נמצא תמיד בפינה הימנית התחתונה והוא מסומן
בצורה הבאה :



מתחת לתבנית תמצאו צורות מספר שרק אחת מהן תשלים באופן נכון את החסר בתבנית. עליכם
למצוא את החלק שישלים את התבנית.

דוגמאות:

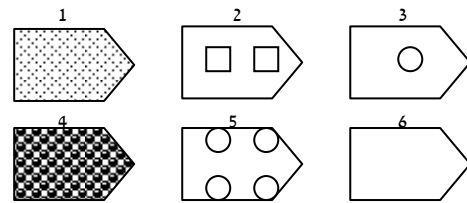
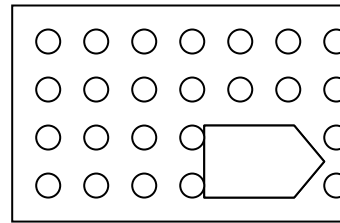
1



בשאלה מס' 1 נראה שהצורות המסומנות בספרות 1, 2 ו-3 אינן מתאימות כלל. צורה מס' 5, אם נכניס אותה למקום הריק בתבנית לא נשנה דבר – עדיין נקבל תבנית שחסר בה חלק, ולכן גם היא אינה מתאימה. בצורה מס' 6 כיוון האלכסונים הוא הפוך ולכן גם היא אינה מתאימה. התשובה הנכונה היא תשובה מס' 4. אם נכניס אותה למקום הריק בתבנית נקבל תבנית שלמה.

התשובה הנכונה לדוגמא 2 היא 5.

2



התשובה הנכונה לדוגמא 3 היא 1.

3

